

**Comenzado en** viernes, 6 de octubre de 2023, 13:15

**Estado** Terminado

**Finalizado en** viernes, 6 de octubre de 2023, 14:16

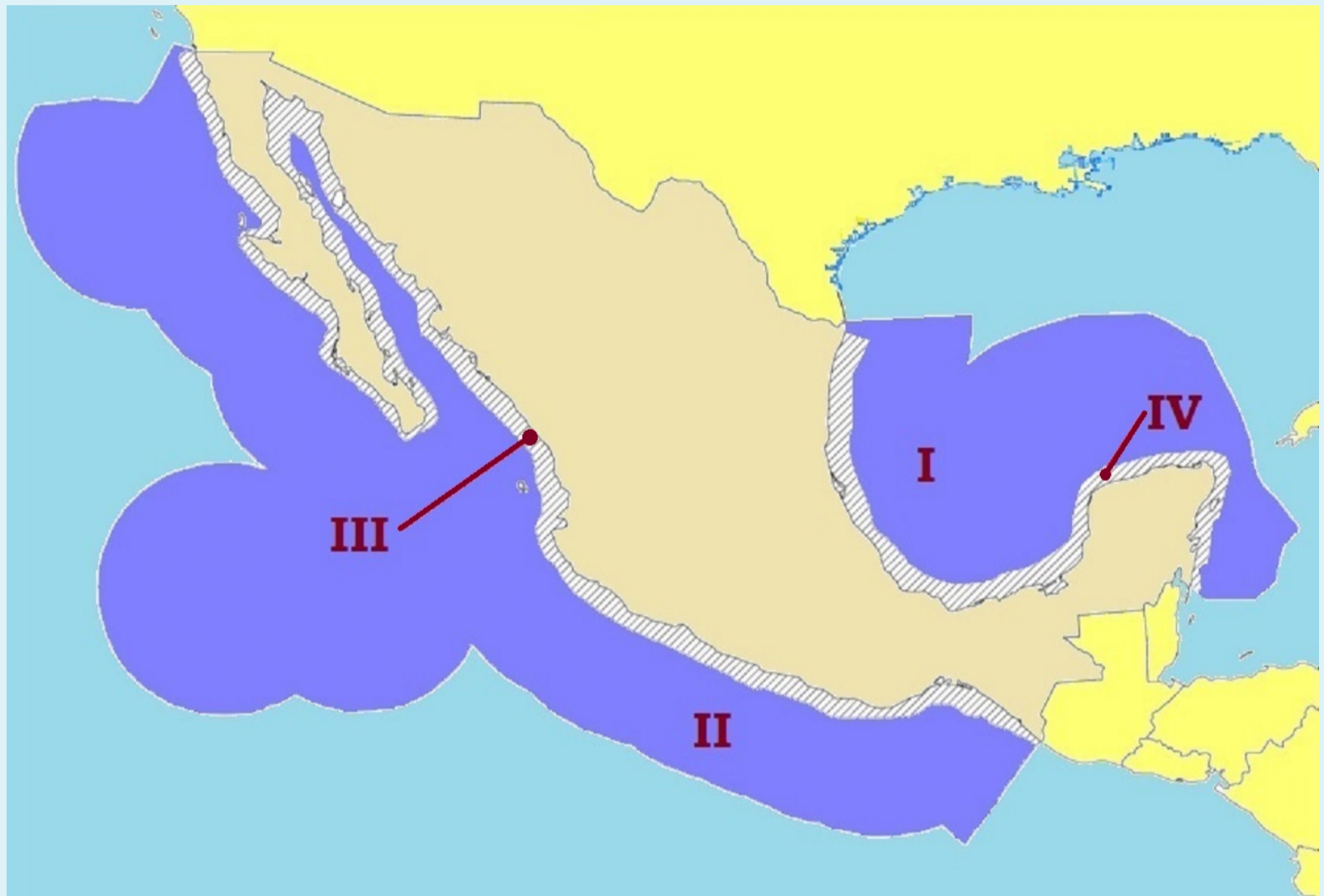
**Tiempo empleado** 1 hora

Pregunta **1**

Sin contestar

Puntaje de 1.00

Observa el mapa del espacio geográfico marítimo de México e identifica los números romanos que correspondan con el mar territorial, el cual considera \_\_\_\_\_ millas náuticas desde la costa hacia el interior del océano:



Seleccione una:

- a. I y II - 12
- b. III y IV - 200
- c. III y IV - 12
- d. I y II - 200

Pregunta **2**

Sin contestar

Puntaje de 1.00

**Identifica los ejemplos de escala local del espacio geográfico:**

1. San Luís Potosí
2. Zócalo de la Ciudad de México
3. La Huasteca
4. Metro Hidalgo
5. África
6. El Bajío
7. Torre de rectoría
8. Selva del Congo
9. Península de Baja California
10. Glorieta de los Insurgentes

Seleccione una:

- a. 2, 4, 7, 10
- b. 1, 4, 7, 9
- c. 2, 6, 8, 10
- d. 1, 3, 5, 9

Pregunta **3**

Sin contestar

Puntaje de 1.00

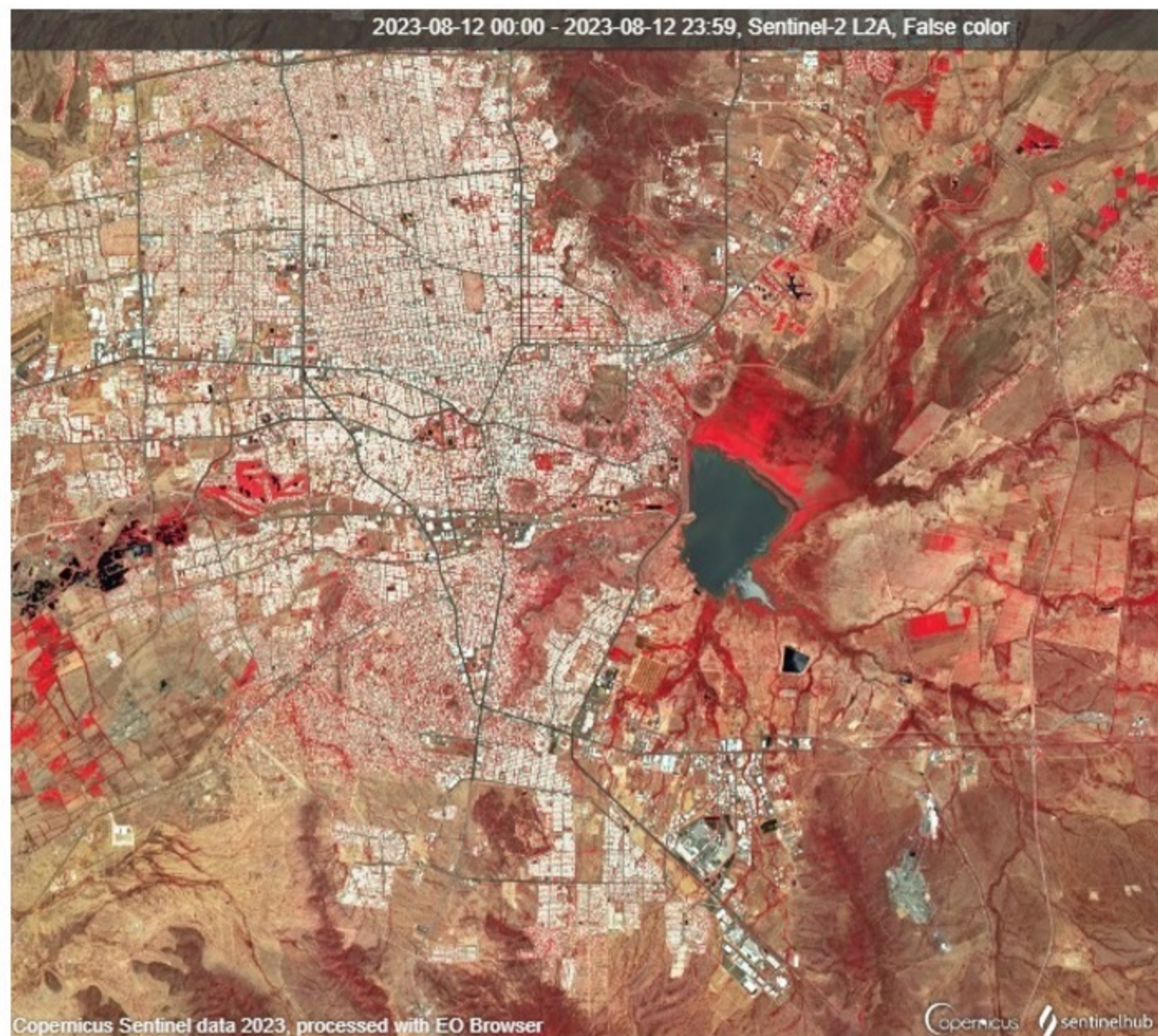
**Representación del espacio geográfico que incluye escala, proyección cartográfica, orientación y simbología:**

Seleccione una:

- a. plano
- b. mapa
- c. globo terráqueo
- d. fotografía aérea

Pregunta **4**  
Sin contestar  
Puntaje de 1.00

Observa la imagen de satélite infrarroja de Hermosillo, Sonora y selecciona los componentes del espacio geográfico de acuerdo con los colores que se muestran en ella:



- I – Cuerpos de agua**
- II – Agricultura**
- III – Vegetación natural**
- IV – Asentamiento humano**

- a – Rojo oscuro**
- b – Blanco grisáceo**
- c - Rojo intenso**
- d – Gris - negro**

Seleccione una:

- a. Ia, IIc, IIIb, IVd
- b. Ia, IIb, IIIc, IVd
- c. Id, IIa, IIIc, IVb
- d. Id, IIc, IIIa, IVb

Pregunta **5**  
Sin contestar  
Puntaje de 1.00

El mapa \_\_\_\_\_ muestra la división política de un lugar para representar con colores o tramas rasgos de la población o las actividades económicas.

Seleccione una:

- a. pictográfico
- b. isoplético
- c. coroplético
- d. topográfico

Pregunta **6**

Sin contestar

Puntaje de 1.00

Un grupo de geógrafas realiza un estudio sobre las inundaciones presentadas en Grecia durante el mes de septiembre de 2023, para ello utilizan una secuencia de \_\_\_\_\_ para apreciar los cambios temporales de esos fenómenos hidrometeorológicos. Además, se apoyan de \_\_\_\_\_ para captar información mediante sus cámaras en las áreas urbanas afectadas y que han quedado incomunicadas. Finalmente utilizan \_\_\_\_\_ con capas informativas para realizar un análisis espacial de las variables ambientales y socioeconómicas, con el fin de obtener cartografía digital con alternativas para atender y gestionar el impacto del desastre.

Seleccione una:

- a. imágenes de satélite – drones - sistemas de información geográfica
- b. sistemas de información geográfica – mapas - imágenes de satélite
- c. sistemas de información geográfica – drones - imágenes de satélite
- d. imágenes de satélite – mapas - sistemas de información geográfica

Pregunta **7**

Sin contestar

Puntaje de 1.00

La variación diurna de la temperatura de la Tierra se asocia con el movimiento de \_\_\_\_\_, mientras que la variación anual se produce por los cambios en la inclinación del eje terrestre y el movimiento de \_\_\_\_\_.

Seleccione una:

- a. traslación - rotación
- b. rotación - traslación
- c. precesión - traslación
- d. rotación - precesión

Pregunta **8**

Sin contestar

Puntaje de 1.00

El núcleo interno de la Tierra está constituido por:

Seleccione una:

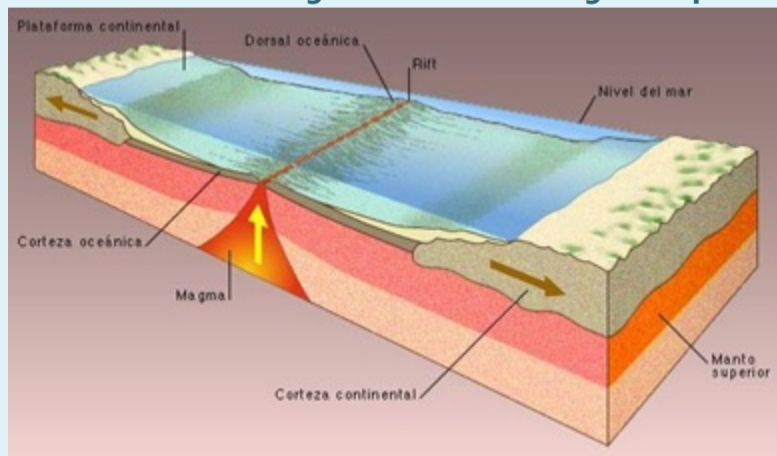
- a. magnesio y aluminio.
- b. hierro y magnesio.
- c. aluminio y níquel.
- d. níquel y hierro.

Pregunta **9**

Sin contestar

Puntaje de 1.00

De acuerdo con la imagen la salida del magma se produce en una zona de:



Seleccione una:

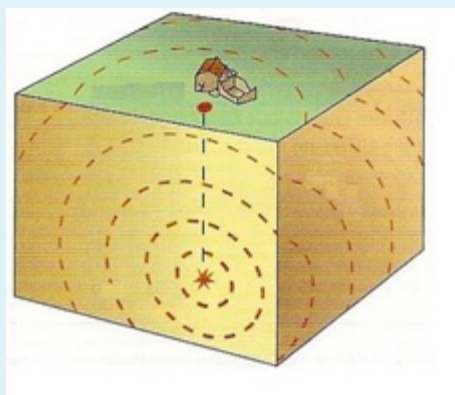
- a. divergencia.
- b. subducción.
- c. convergencia.
- d. transformación.

Pregunta **10**

Sin contestar

Puntaje de 1.00

Observa la imagen e identifica el nombre del lugar donde se origina un sismo representado con un asterisco:



Seleccione una:

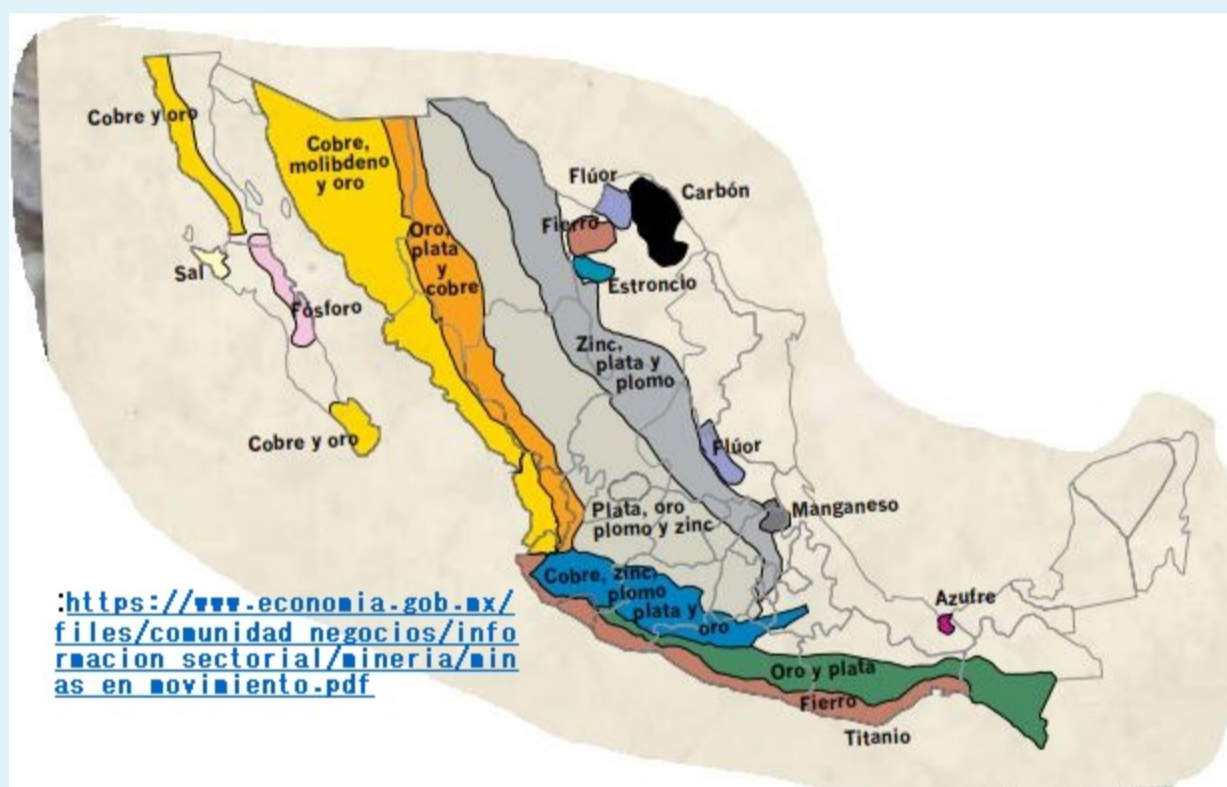
- a. Epicentro
- b. Hipocentro
- c. Núcleo
- d. Astenosfera

Pregunta **11**

Sin contestar

Puntaje de 1.00

Observa el mapa de la Coordinación General de Minería de México e identifica las entidades con mayor cobertura geográfica de oro:



Seleccione una:

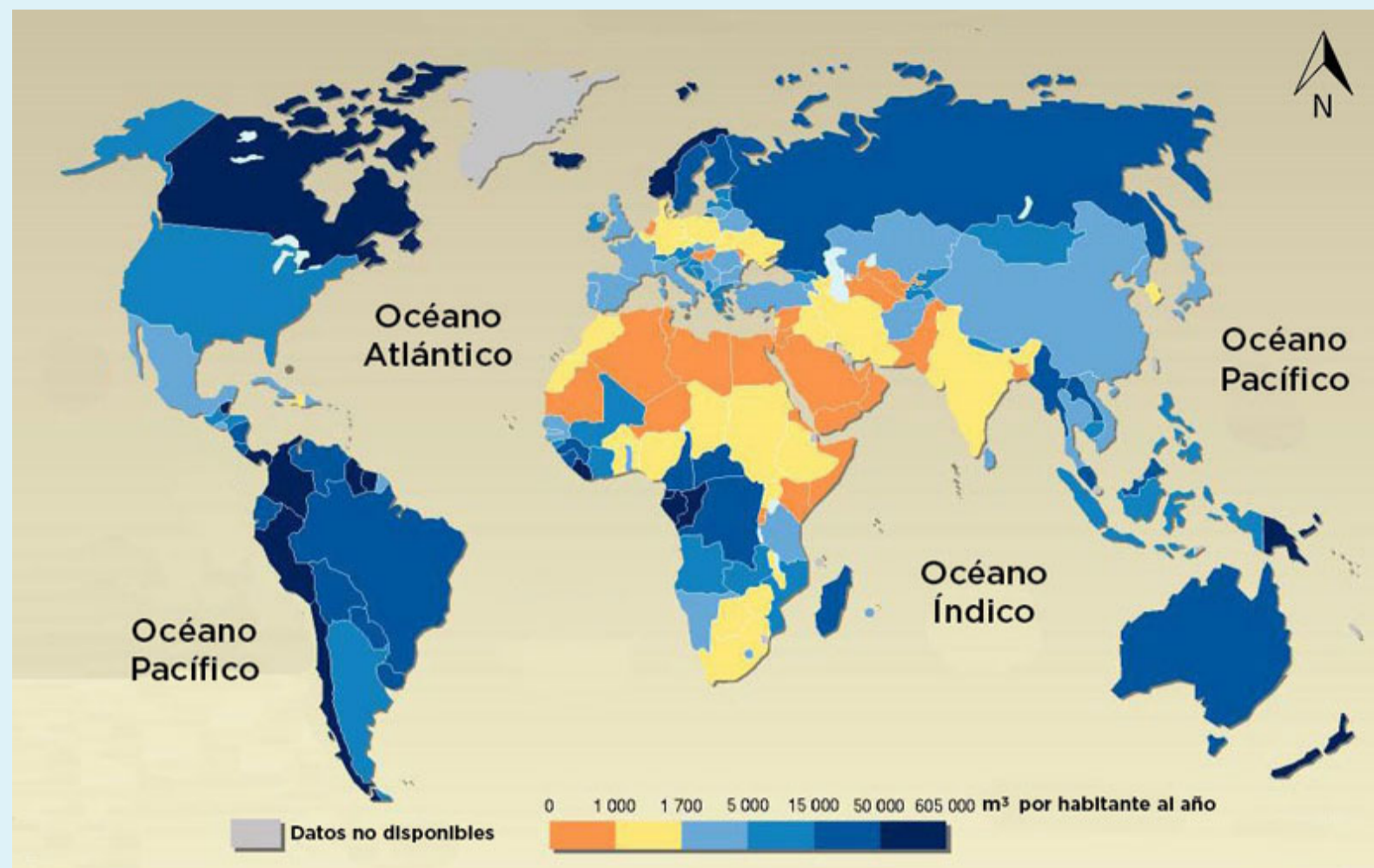
- a. Tamaulipas y Chihuahua
- b. Chihuahua y Oaxaca
- c. Coahuila y Tamaulipas
- d. Oaxaca y Coahuila

Pregunta **12**

Sin contestar

Puntaje de 1.00

Observa el mapa e identifica los países con la mayor cantidad de agua dulce en m<sup>3</sup> disponible por persona:



Seleccione una:

- a. Islandia y Rusia
- b. Canadá y Noruega
- c. Canadá y Rusia
- d. Islandia y Suecia

Pregunta **13**

Sin contestar

Puntaje de 1.00

Tipo de clima templado, según la clasificación de Köppen, idóneo para el desarrollo de la actividad vitivinícola en el sur de Francia:

Seleccione una:

- a. Cf
- b. Cs
- c. Cw
- d. Cx'

Pregunta **14**

Sin contestar

Puntaje de 1.00

Identifica las consecuencias del cambio climático a nivel mundial:

Seleccione una:

- a. Emisión de gases de efecto invernadero y sequías
- b. Crisis energética y aumento de la deforestación
- c. Uso de combustibles fósiles y producción de alimentos
- d. Incremento del nivel del mar y elevadas temperaturas

Pregunta **15**

Sin contestar

Puntaje de 1.00

**Relaciona la regla ecológica que permite la concientización social para el cuidado del medio ambiente con sus características principales:**

<b>I Reciclar</b>	a) Los productos tienen una segunda oportunidad antes de desecharlos, si el producto es de calidad se puede seguir usando.
<b>II Reducir</b>	b) Cuando una cosa se estropea se alarga su vida útil si se compone.
<b>III Reutilizar</b>	c) El producto cumple su función y termina su vida útil, se reintegra como materia prima para elaborar otro producto.
<b>IV Recuperar</b>	d) El nivel de demanda de un producto baja y es innecesario producir más.
<b>V Reparar</b>	e) Usar piezas de productos que se iban a desechar por completo, se aprovechan algunas piezas del objeto antes de eliminarlo.

Seleccione una:

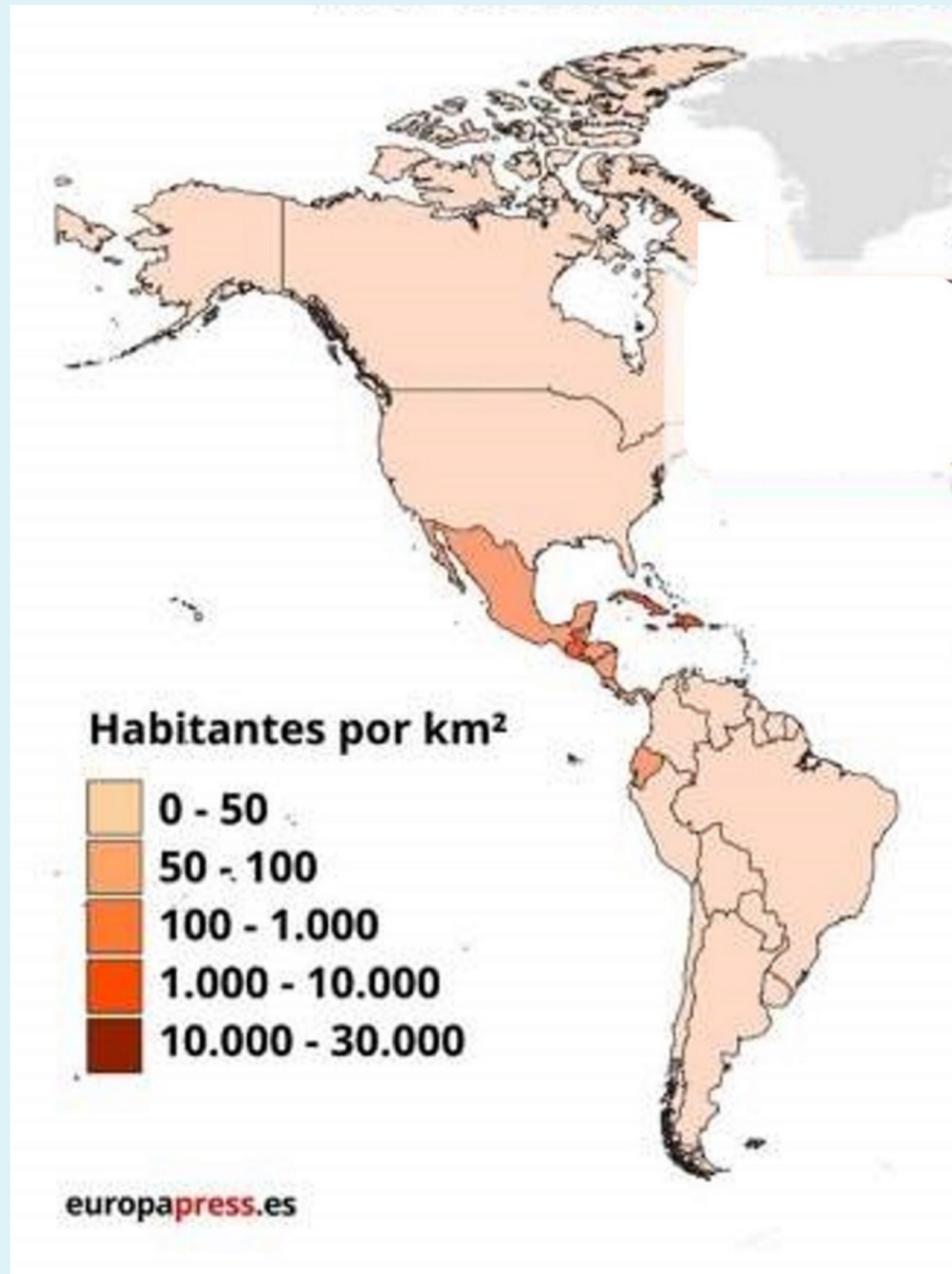
- a. Ic, IId, IIIa, IVe Vb
- b. Ib, IId, IIIc, IVa, Vd
- c. Ia, IIc, IIIb IVd, Ve
- d. Ie, IIb, IIIc, IVc, Va

Pregunta **16**

Sin contestar

Puntaje de 1.00

Observa el mapa de la densidad de población de América e identifica la afirmación correcta:



Seleccione una:

- a. En Ecuador la densidad de población es de 50 a 100 hab/km<sup>2</sup>
- b. La densidad de población de Perú es de 50 a 100 hab/km<sup>2</sup>
- c. México tiene una densidad de población de 0 a 50 hab/km<sup>2</sup>
- d. En Colombia la densidad de población es de 50 a 100 hab/km<sup>2</sup>

Pregunta **17**

Sin contestar

Puntaje de 1.00

**Regiones con escasa población del mundo:**

Seleccione una:

- a. Norte de Rusia, Este de Asia y Australia
- b. Norte de África, Sur de Asia y Europa Oriental
- c. Norte de África, Oeste de Brasil y Norte de Rusia
- d. Norte de Canadá, la Antártida y Este de Brasil



Pregunta **18**

Sin contestar

Puntaje de 1.00

**Los asentamientos humanos alejados entre sí y cuya población realiza actividades primarias, se les conoce con el nombre de:**

Seleccione una:

- a. Agrícolas
- b. Campesinos
- c. Rurales
- d. Agropecuarios

Pregunta **19**

Sin contestar

Puntaje de 1.00

**El continente con mayor emigración es \_\_\_\_\_ y alberga cuatro de los cinco países más poblados del planeta, como \_\_\_\_\_, cuya capital es Islamabad.**

Seleccione una:

- a. Asia - Pakistán
- b. África - Nigeria
- c. Asia - Bangladesh
- d. África - Argelia


Pregunta **20**

Sin contestar

Puntaje de 1.00

**Relaciona las siguientes religiones del mundo con el símbolo que las identifica:**

I. Taoísmo  
II. Islamismo  
III. Cristianismo  
IV. Judaísmo



Seleccione una:

- a. Id, IIc, IIIa, IVb
- b. Ic, IIb, IIIc, IVa
- c. Ia, IIc, IIIb, IVd
- d. Ic, IIc, IIIb, IVa

Pregunta **21**

Sin contestar

Puntaje de 1.00

**Observa las imágenes e infiere el sector económico que ayudó a desarrollar la zona alrededor de la laguna Nichupté en el estado de Quintana Roo:**



Seleccione una:

- a. secundario
- b. quinario
- c. terciario
- d. cuaternario

Pregunta **22**

Sin contestar

Puntaje de 1.00

**Acónimos de organismos internacionales que promueven la globalización a través de actividades financieras, el libre mercado y políticas neoliberales:**

Seleccione una:

- a. BM y OIT
- b. FMI y BM
- c. OIT y OEA
- d. OEA y FMI

Pregunta **23**

Sin contestar

Puntaje de 1.00

**Un indicador del desarrollo económico es el ingreso per cápita. Observa el mapa e identifica el país con el PIB per cápita que representa el rango más alto de América del Sur:**



Seleccione una:

- a. Venezuela
- b. Surinam
- c. Guyana
- d. Guayana

Pregunta **24**

Sin contestar

Puntaje de 1.00

Observa las imágenes y relacionalas con el tipo de desastre correspondiente:



- a. Socio - Organizativos
- b. Geológicos
- c. Biológicos
- d. Meteorológicos

Seleccione una:

- a. Id, Ila, IIIb, IVc
- b. Ic, IId, IIIb, IVa
- c. Ia, IIb, IIIId, IVc
- d. Id, IIb, IIIa, IVc

Pregunta **25**

Sin contestar

Puntaje de 1.00

Las actividades económicas más importantes por su participación en el Producto Interno Bruto de Estados Unidos pertenecen al sector:

Seleccione una:

- a. quinario.
- b. cuaternario.
- c. terciario.
- d. secundario.

Pregunta **26**

Sin contestar

Puntaje de 1.00

Países asiáticos que actualmente basan su desarrollo económico en la producción de petróleo:

Seleccione una:

- a. Pakistán y Arabia Saudita
- b. Turquía y Pakistán
- c. Arabia Saudita y Emiratos Árabes Unidos
- d. Emiratos Árabes Unidos y Turquía

Pregunta **27**

Sin contestar

Puntaje de 1.00

Elemento del Estado que comprende la superficie continental y marítima, el subsuelo y el espacio aéreo:

Seleccione una:

- a. Territorio
- b. Entidad
- c. Provincia
- d. Región

Pregunta **28**

Sin contestar

Puntaje de 1.00

Observa el mapa de México e identifica los ríos fronterizos en el orden siguiente: 10, 1, 5 y 11:



Seleccione una:

- a. Colorado, Usumacinta, Hondo y Suchiate
- b. Suchiate, Hondo, Colorado y Usumacinta
- c. Hondo, Colorado, Usumacinta y Suchiate
- d. Usumacinta, Colorado, Suchiate y Hondo

Pregunta **29**

Sin contestar

Puntaje de 1.00

**País miembro de la Unión Europea desde 1986 que tiene como forma de gobierno la monarquía parlamentaria:**

Seleccione una:

- a. España
- b. Mónaco
- c. Portugal
- d. Irlanda

Pregunta **30**

Sin contestar

Puntaje de 1.00

**En 2014, después de un referéndum, Rusia se anexó la península ucraniana de \_\_\_\_\_, lo cual intensificó el conflicto entre ambos países.**

Seleccione una:

- a. Crimea
- b. Donbás
- c. Kamchatka
- d. Anatolia

Pregunta **31**

Sin contestar

Puntaje de 1.00

**Último país europeo en adherirse a la Organización del Tratado del Atlántico Norte en 2023 y el cual tiene frontera con Rusia:**

Seleccione una:

- a. Finlandia
- b. Estonia
- c. Belarús
- d. Suecia

Pregunta **32**

Sin contestar

Puntaje de 1.00

La diversidad de flora y fauna en México se relaciona con la variedad de \_\_\_\_\_, lo cual está vinculado con su \_\_\_\_\_

Seleccione una:

- a. climas – ubicación geográfica.
- b. climas – distribución insular.
- c. suelos – distribución insular.
- d. suelos – ubicación geográfica.

Pregunta **33**

Sin contestar

Puntaje de 1.00

Región fisiográfica de México que carece de una red fluvial superficial y el acceso al agua se restringe a la explotación de mantos acuíferos:

Seleccione una:

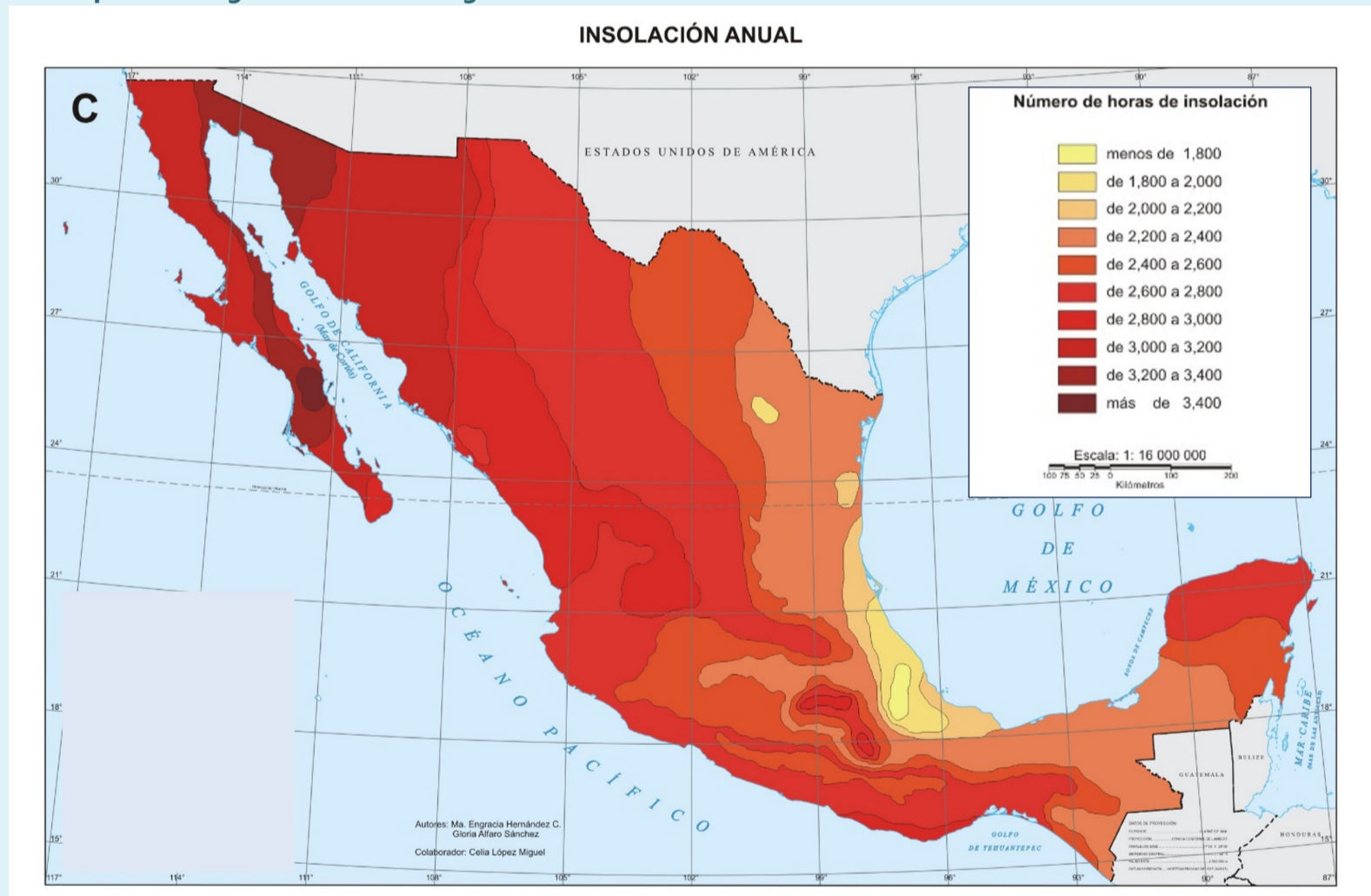
- a. Depresión del Balsas
- b. Península de Yucatán
- c. Sierra Madre del Sur
- d. Llanura Costera del Golfo

Pregunta **34**

Sin contestar

Puntaje de 1.00

Observa el mapa e infiere las entidades mexicanas que por su ubicación geográfica son más favorables para instalar plantas de generación de energía fotovoltaica:



Seleccione una:

- a. Sonora y Baja California Sur
- b. Baja California y San Luis Potosí
- c. Yucatán y Nuevo León
- d. Coahuila y Durango

Pregunta **35**

Sin contestar

Puntaje de 1.00

La región señalada en la imagen corresponde a la Comarca Lagunera, una importante zona productora de \_\_\_\_\_, la cual se localiza en los límites de



Seleccione una:

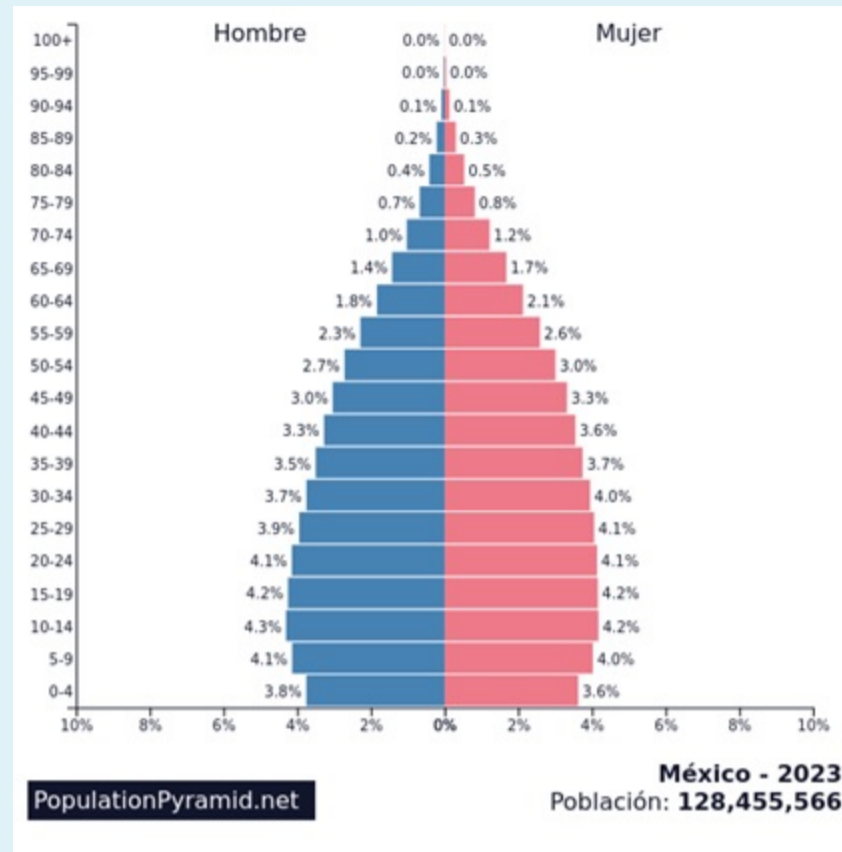
- a. embutidos - Chihuahua y Durango.
- b. lácteos - Durango y Coahuila.
- c. frutas - Zacatecas y Chihuahua.
- d. forrajes - Coahuila y Zacatecas.

Pregunta **36**

Sin contestar

Puntaje de 1.00

Observa detenidamente la pirámide de población de México de 2023 y reconoce el rango de edad con el mayor porcentaje de varones:



Seleccione una:

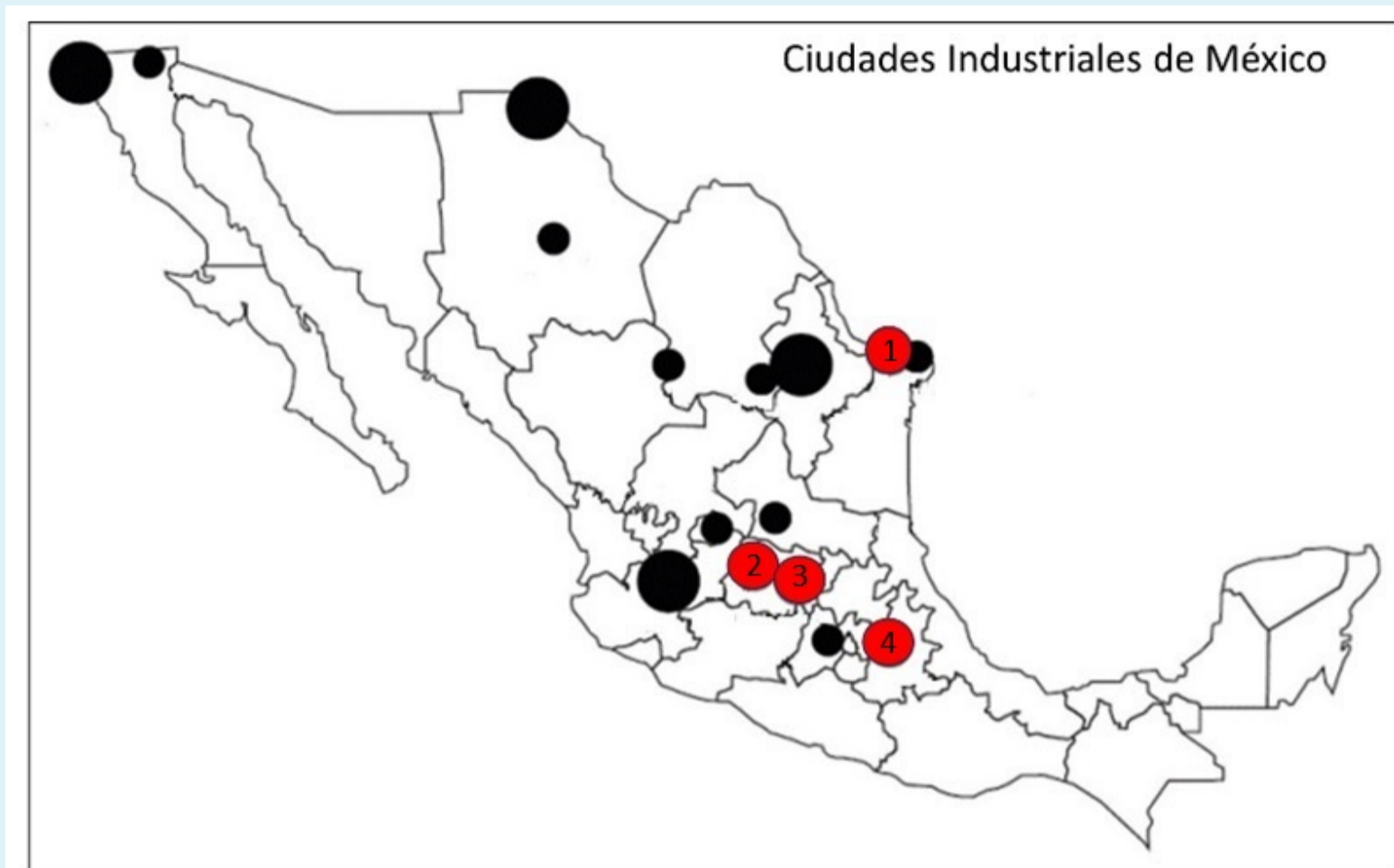
- a. 3-7 años
- b. 20-35 años
- c. 18-25 años
- d. 10-14 años

Pregunta **37**

Sin contestar

Puntaje de 1.00

Observa la imagen y determina las ciudades industriales de México señaladas con los números 1, 2, 3 y 4, respectivamente:



Seleccione una:

- a. Matamoros, Guanajuato, Pachuca y Tlaxcala.
- b. Reynosa, Guanajuato, Pachuca y Puebla.
- c. Reynosa, León, Querétaro y Puebla.
- d. Matamoros, León, Querétaro y Tlaxcala.

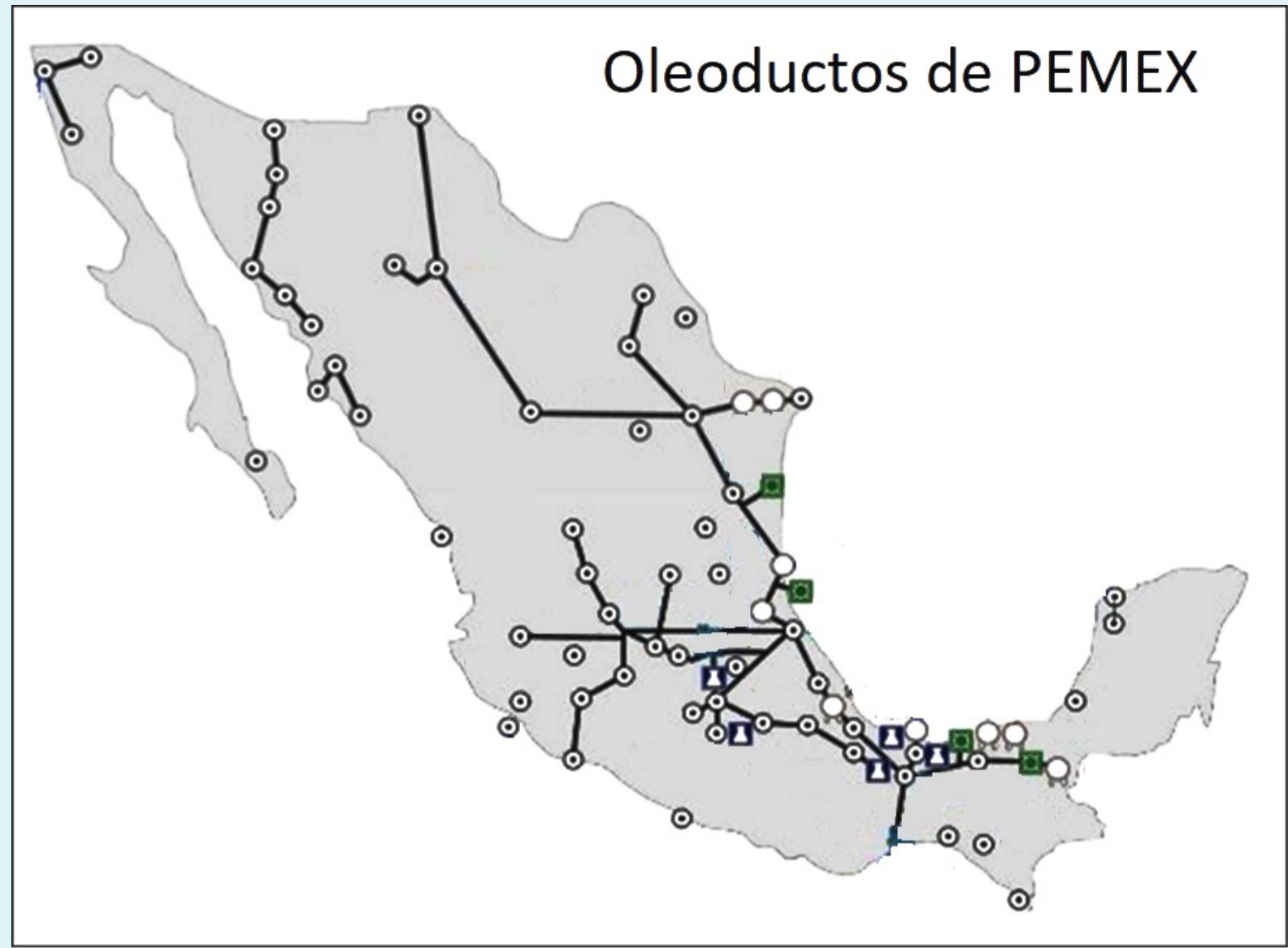


Pregunta **38**

Sin contestar

Puntaje de 1.00

La empresa Petróleos Mexicanos (PEMEX) dispone de diversas instalaciones. Analiza el mapa con los oleoductos representados con líneas negras e infiere la afirmación correcta:



Seleccione una:

- a. En el centro del país abundan los oleoductos por las extensas planicies existentes.
- b. La mayor cantidad de oleoductos se ubican en la planicie costera occidental.
- c. En las penínsulas se dificulta la instalación de oleoductos por el relieve montañoso.
- d. La Sierra Madre Occidental dificulta la construcción de oleoductos.

Pregunta **39**

Sin contestar

Puntaje de 1.00

Observa el mapa de los principales destinos visitados en México por el turismo internacional y reconoce los tres estados, en orden decreciente, con más turistas internacionales:



Seleccione una:

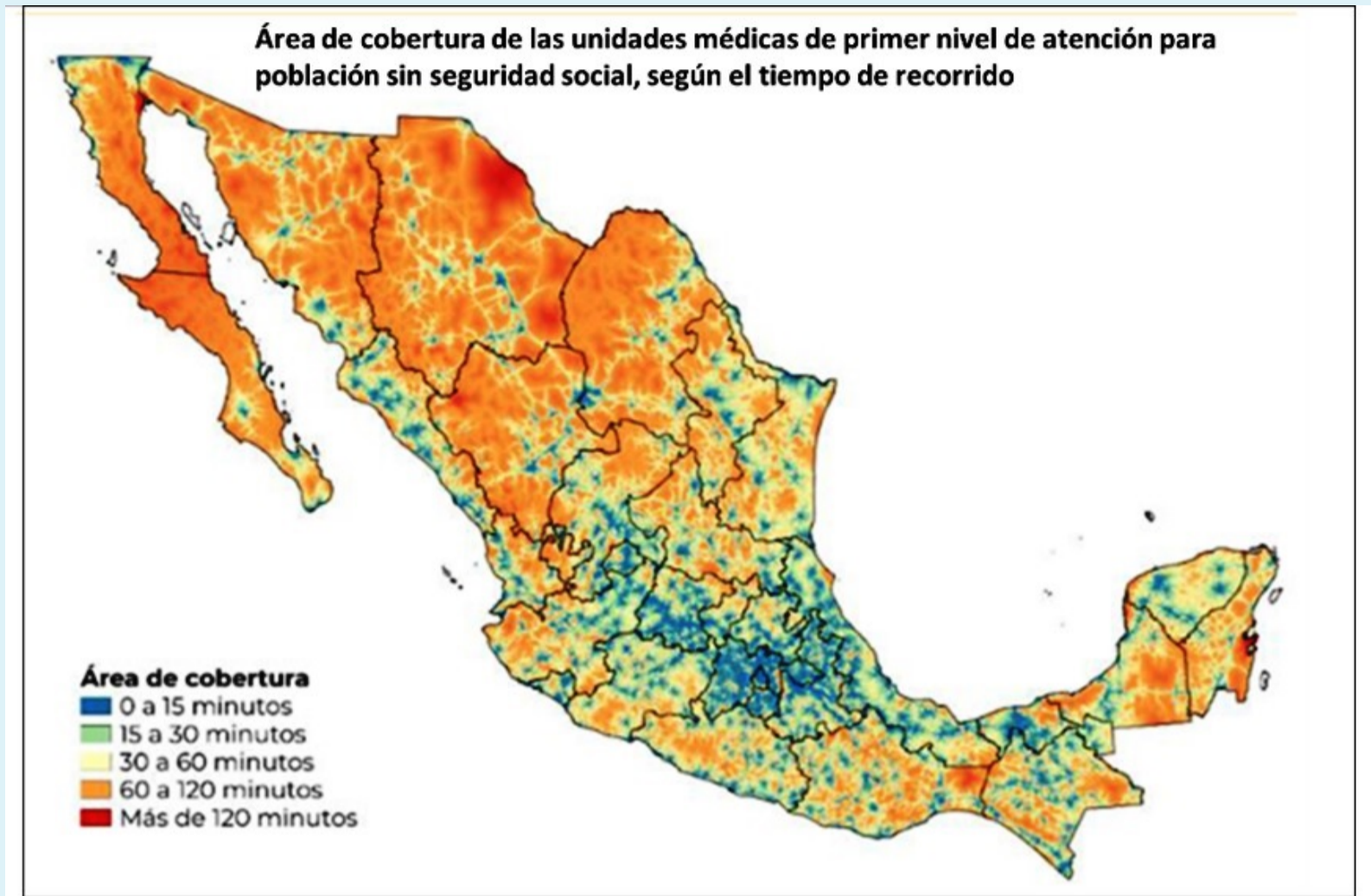
- a. Quintana Roo, Morelos y Jalisco.
- b. Quintana Roo, Ciudad de México y Jalisco.
- c. Yucatán, Morelos y Michoacán.
- d. Yucatán, Ciudad de México y Michoacán.

Pregunta **40**

Sin contestar

Puntaje de 1.00

Analiza el mapa de México con las áreas de cobertura del tiempo de recorrido de las unidades médicas de primer nivel de atención para la población sin seguridad social y reconoce dos zonas donde la población debe recorrer más tiempo para llegar a un centro médico:



Seleccione una:

- a. al norte de Chihuahua y occidente de Coahuila.
- b. el norte de Coahuila y el sur de Zacatecas.
- c. el sur de Puebla y el oriente de Oaxaca.
- d. al oriente de Quintana Roo y el norte de Yucatán.